

周周过关练(一)

一、填一填。


1. 数一数,画“○”表示个数。



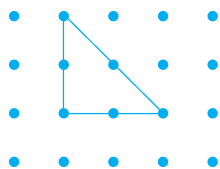




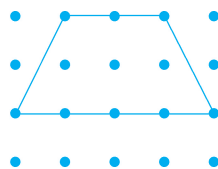
2.  比  (多 少)。



3. 在钉子板上围“草地”。




①



②

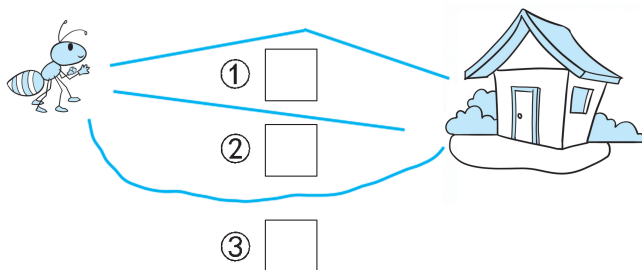
围出的“草地”中,第()块“草地”大一些。(填序号)

4. 把每行中和其他几个不是同一类的圈起来。

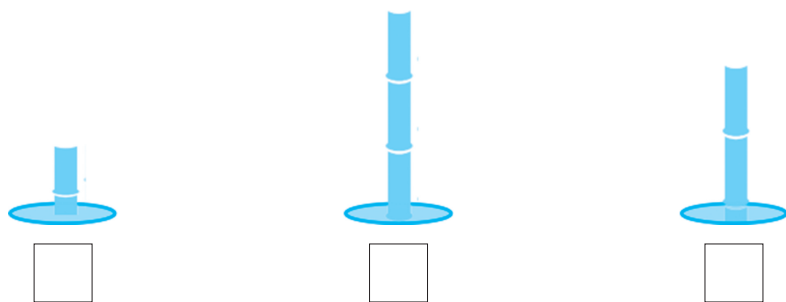


二、选一选。

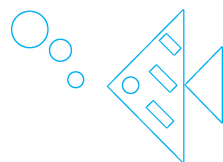
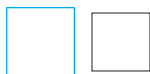

1. 小蚂蚁回家,走哪条路最近?



2. 乐乐往三个洞里放入同样长的竹子,并且都插到了洞底,哪个洞最深?




3. 拼出如图的小鱼,没有用到下面的哪个图形?



三、解决问题。

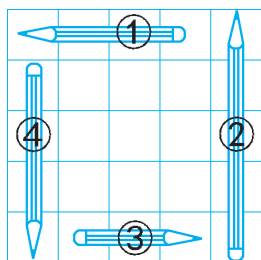
1. 一只小猫吃 2 条鱼,这些小鱼够吃吗? 在下面的 ☐ 里画“√”。



够 ☐

不够 ☐

2. 把下面的铅笔按照从长到短排一排。(填序号)



☐ > ☐ > ☐ > ☐